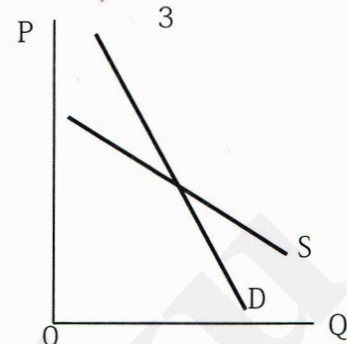
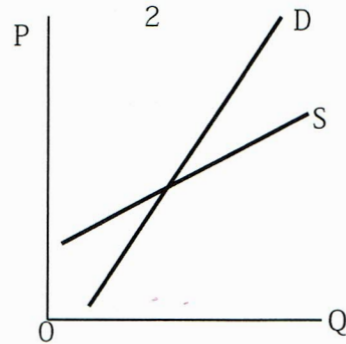
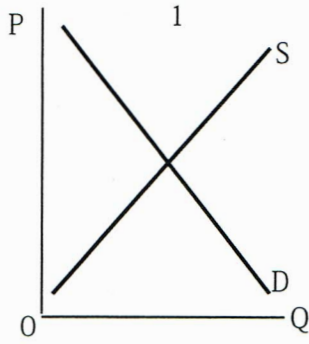


問題 148-1 **ワルラス的安定、マーシャル的安定**

次の1から3の図で、ワルラス的には安定であるが、マーシャル的には不安定なものはいくつありますか。



- 1. 1
- 2. 2
- 3. 3
- 4. 1と3
- 5. 2と3

(地方上級 改題)

